

ΚΛΑΣΣΙΚΟ ΤΕΣΤ ΕΥΦΥΪΑΣ

1. Το "ΣΑΛΠΙΓΓΑ" είναι για το "ΠΑΙΖΩ" ότι και το "ΒΙΒΛΙΟ" είναι για το

- ΜΟΥΣΙΚΗ Το α
ΔΙΑΒΑΖΩ Το β
ΛΕΞΕΙΣ Το γ
ΑΝΑΠΑΥΣΗ Το δ
ΠΑΙΧΝΙΔΙ Το ε

2. Το "ΑΥΤΟΚΙΝΗΤΟ" είναι για το "ΡΟΔΑ" ότι και το "ΑΛΟΓΟ" είναι για το

- ΠΟΔΙ Το α
ΟΥΡΑ Το β
ΚΑΛΠΑΣΜΟΣ Το γ
ΟΔΗΓΗΜΑ Το δ
ΑΜΑΞΑ Το ε

3. Ποιο είναι το επόμενο νούμερο σε αυτή τη σειρά :

3, 9, 15, 21,

4. το "ΑΓΕΛΑΔΑ" είναι για το "ΣΤΑΒΛΟΣ" ότι και το «ΑΝΘΡΩΠΟΣ» είναι για το

- ΓΑΛΑ Το α
ΦΑΡΜΑ Το β
ΣΠΙΤΙ Το γ
ΕΣΤΙΑΤΟΡΙΟ Το δ
ΜΑΝΤΡΙ Το ε

5. Ποιο είναι το έβδομο νούμερο μετά τον αριθμό που είναι ακριβώς πριν από το 6;

1,2,3,4,5,6,7,8,9,10,11,12,13,14,15,16,

6. Οι παρακάτω λέξεις μπορούν να τοποθετηθούν έτσι ώστε να σχηματίζουν μια πρόταση. Αν το νόημα που εκφράζει η πρόταση είναι αληθινό επιλέξτε (Α), αν δεν είναι αληθινό επιλέξτε (Ψ).

Ξύλο καίγεται δεν ξερό το

- Α
Ψ

7. Το ίδιο όπως και πριν για τις παρακάτω λέξεις:

Τα επιπλέον νερό στο πλοία

- Α
Ψ

8. Στη σειρά αυτή ποιο είναι το επόμενο νούμερο;

1, 3, 5, 7,

9. Οι παρακάτω λέξεις μπορούν να τοποθετηθούν έτσι ώστε να σχηματίζουν μια πρόταση. Αν το νόημα που εκφράζει ή πρόταση είναι αληθινό επιλέξτε (Α), αν δεν είναι αληθινό επιλέξτε (Ψ).

Το μπάλα με παίζεται ποδόσφαιρο μία

Α

Ψ

10. Η λέξη ΑΔΙΑΦΘΟΡΟΣ σημαίνει

ΧΩΡΙΣ ΕΝΔΙΑΦΕΡΟΝ Το α

ΠΟΥ ΔΕΝ ΦΘΕΙΡΕΤΑΙ Το β

ΠΟΥ ΔΕΝ ΔΙΑΦΘΕΙΡΕΤΑΙ Το γ

ΧΩΡΙΣ ΔΙΑΦΟΡΑ Το δ

11. Ο Κώστας έχει 10 ευρώ. Αν είχε 3 ευρώ λιγότερο, θα είχε τα μισά χρήματα από τον Γιώργο. Πόσα χρήματα έχει ο Γιώργος περισσότερα από τον Κώστα;

7 ευρώ Το α

4 ευρώ Το β

2 ευρώ Το γ

13 ευρώ Το δ

12. το «ΑΥΤΟΣ» είναι για το «ΑΥΤΟΝ» ότι και το «ΑΥΤΗ» είναι για το

ΕΜΕΝΑ Το α

ΑΥΤΟΥΣ Το β

ΑΥΤΗΣ Το γ

ΑΥΤΗΝ Το δ

ΑΥΤΟΥ Το ε

13. Ποια λέξη δεν ανήκει στην παρακάτω ομάδα;

ΡΑΔΙΟΦΩΝΟ Το α

ΜΠΑΤΑΡΙΑ Το β

ΛΕΒΗΤΑΣ Το γ

ΤΗΛΕΦΩΝΟ Το δ

14. Ποιο αντικείμενο δεν ανήκει στην παρακάτω ομάδα;

ΣΠΑΘΙ Το α

ΓΙΑΤΑΓΑΝΙ Το β

ΛΟΓΧΗ Το γ

ΞΙΦΟΣ Το δ

ΧΑΝΤΖΑΡΙ Το ε

15. Μόνο τα πουλιά έχουν φτερά. Επομένως ποιο από τα παρακάτω είναι σωστό;

Όλα τα φτερά είναι ελαφρά Το α

Τα φίδια δεν έχουν φτερά Το β

Τα πουλιά αλλάζουν φτερά την άνοιξη Το γ

16. Ποιο επάγγελμα δεν ανήκει στην παρακάτω ομάδα;

ΑΡΧΙΤΕΚΤΩΝ Το α

ΓΙΑΤΡΟΣ Το β

ΥΔΡΑΥΛΙΚΟΣ Το γ

ΚΤΙΣΤΗΣ Το δ

17. Στη σειρά αυτή ποιο είναι το επόμενο νούμερο;

90, 85, 75, 60, 40,

18. Στη σειρά αυτή ποιο είναι το επόμενο νούμερο;

22, 33, 44, 55, 66,

19. το «ΑΡΧΑΙΟΛΟΓΟΣ» είναι για το «ΚΟΙΝΩΝΙΟΛΟΓΟΣ» ότι και το «ΑΡΧΑΙΟ» για το

ΑΡΧΗ Το α

ΚΟΙΝΩΝΙΚΟΣ Το β

ΚΟΙΝΩΝΙΑ Το γ

ΚΟΙΝΩΝΙΟΛΟΓΙΑ Το δ

20. Αν ένα άτομο είναι ΕΞΟΥΘΕΝΩΜΕΝΟ, τότε αυτό είναι

ΤΡΑΥΜΑΤΙΣΜΕΝΟ Το α

ΕΞΑΝΤΛΗΜΕΝΟ Το β

ΕΚΝΕΥΡΙΣΜΕΝΟ Το γ

ΑΠΟΓΟΗΤΕΥΜΕΝΟ Το δ

21. Το "ΚΛΩΣΤΗ" είναι για το «ΥΦΑΣΜΑ» ότι και το «ΣΥΡΜΑ» είναι για το

ΣΥΜΠΑΓΕΣ Το α

ΡΑΔΙΟΦΩΝΟ Το β

ΣΧΟΙΝΙ Το γ

ΣΥΡΜΑΤΟΠΛΕΓΜΑ Το δ

ΜΕΤΑΛΛΟ Το ε

22. Η λέξη ΧΙΜΑΙΡΑ αναφέρεται σε

ΠΛΙΝΘΙΝΗ ΚΑΛΥΒΑ Το α

ΜΥΘΟΛΟΓΙΚΟ ΤΕΡΑΣ Το β

ΟΡΜΗΤΙΚΟ ΡΥΑΚΙ Το γ

ΡΩΜΑΪΚΗ ΘΕΟΤΗΤΑ Το δ

23. Στη σειρά αυτή ποιο είναι το επόμενο γράμμα;

A, Γ, E, H, I,

24. Ποιο νούμερο δεν ταιριάζει στην παρακάτω ομάδα;

1 19 8 5 145 127

25. Γράψτε το γράμμα που απέχει τόσο από το πρώτο γράμμα του αλφαβήτου όσο απέχει το δεύτερο Υ από το πρώτο στη λέξη

ΨΥΧΑΝΑΛΥΣΗ

26. Ποιο γράμμα δεν ανήκει στην παρακάτω ομάδα;

Ω Ψ Χ Ο Φ Υ

27. Το  είναι για το  ότι και το  είναι για το

 Το α

 Το β

 Το γ

 Το δ

 Το ε

28. Οι παρακάτω λέξεις μπορούν να τοποθετηθούν έτσι ώστε να σχηματίζουν μια πρόταση. Αν το νόημα που εκφράζει ή πρόταση είναι αληθινό, επιλέξτε (Α), αν δεν είναι αληθινό επιλέξτε (Ψ).

Πεθάνει δεν ζωντανοί έχουν είναι όσοι

Α

Ψ

29. Στη σειρά αυτή ποιο είναι το επόμενο νούμερο;

18, 12, 15, 10, 12, 8,

30. Αν Α και Β είναι γράμματα επιλέξτε το Γ, εκτός αν 5 και 5 κάνουν 10, οπότε μην επιλέξετε τίποτε άλλο παρά μόνο Δ

Γ









Δ









31. Οι παρακάτω λέξεις μπορούν να τοποθετηθούν έτσι ώστε να σχηματίζουν μια πρόταση. Αν το νόημα που αποδίδει ή πρόταση είναι αληθινό επιλέξτε (Α), αν δεν είναι αληθινό επιλέξτε (Ψ).

Δεν δόντια είναι τα αληθινά ψεύτικα

Α

Ψ

32. Το  είναι για το  ότι και το  είναι για το
-  Το α
-  Το β
-  Το γ
-  Το δ
-  Το ε









33. Το  είναι για το  ότι και το  είναι για το
-  Το α
-  Το β
-  Το γ
-  Το δ
-  Το ε

34. Ποιος αριθμός δεν ανήκει στην παρακάτω ομάδα;

- 2 6 17 54 162
-

35. Στη σειρά αυτή ποιο είναι το επόμενο γράμμα;

A, Γ, Z, K,

36. το  είναι για το  ότι και το  είναι για το
-  Το α
-  Το β
-  Το γ
-  Το δ
-  Το ε

37. Στη σειρά αυτή ποιο είναι το επόμενο νούμερο;

21, 20, 18, 15, 11,

38. το "ΝΟΤΟΣ" είναι για το "ΒΟΡΕΙΟΔΥΤΙΚΑ" ότι και το "ΔΥΣΗ" είναι για το

- ΒΟΡΡΑΣ Το α
- ΝΟΤΙΟΔΥΤΙΚΑ Το β
- ΒΟΡΕΙΟΑΝΑΤΟΛΙΚΑ Το γ
- ΝΟΤΙΟΑΝΑΤΟΛΙΚΑ Το δ

39. Ποιος αριθμός δεν ανήκει στην παρακάτω ομάδα;

- 2 4 100 38 20 7
-

40. Ποια λέξη δεν ανήκει στην παρακάτω ομάδα;

ΛΥΠΗ Το α

ΜΕΛΑΓΧΟΛΙΑ Το β

ΠΙΚΡΑ Το γ

ΜΟΙΡΟΛΟΙ Το δ

41. Στη σειρά αυτή ποιο είναι το επόμενο γράμμα;

Α, Γ, Β, Δ, Ζ, Ε, Η,

42. Γράψτε τον αριθμό που είναι τόσο πριν από το 14 όσο το Κ είναι μετά το Ε στο αλφάβητο:

1,2,3,4,5,6,7,8,9,10,11,12,13,14,15,16,17,18,19

43. Όλοι οι άνθρωποι έχουν παλτά. Επομένως οι μεγαλόσωμοι άνθρωποι θα έχουν

ΜΕΓΑΛΑ ΠΑΛΤΑ Το α

ΛΙΓΑ ΠΑΛΤΑ Το β

ΠΑΛΤΑ Το γ

ΠΟΛΥ ΛΙΓΑ ΠΑΛΤΑ Το δ

44. Στη σειρά αυτή ποιο είναι το επόμενο νούμερο;

18, 24, 21, 27, 24, 30,

45. ΟΙ Τούρκοι ΛΕΗΛΑΤΟΥΣΑΝ τις πόλεις

ΜΕ ΟΠΛΑ Το α

ΜΕ ΔΗΛΗΤΗΡΙΟ Το β

ΚΑΤΑΣΤΡΕΦΟΝΤΑΣ ΤΙΣ Το γ

ΛΗΣΤΕΥΟΝΤΑΣ ΤΙΣ Το δ

ΙΣΟΠΕΔΩΝΟΝΤΑΣ ΤΙΣ Το ε

46. Στη σειρά αυτή ποιο είναι το επόμενο νούμερο;

66, 63, 57, 45,

47. Το είναι για το ότι και το είναι για το

Το α

Το β

Το γ

Το δ

Το ε

48. Στη σειρά αυτή ποιο είναι το επόμενο νούμερο;

2, 9, 6, 7, 18, 5,

49. το «ΕΠΙΠΕΔΟ» είναι για το "ΣΤΕΡΕΟ" ότι και το "ΓΡΑΜΜΗ" είναι για το

ΤΕΤΡΑΓΩΝΟ Το α

ΚΥΚΛΟΣ Το β

ΓΩΝΙΑ Το γ

ΟΡΘΟΓΩΝΙΟ Το δ

ΕΠΙΠΕΔΟ Το ε

50. Πόσα χιλιόμετρα μπορεί να τρέξει ένας σκύλος σε 3 λεπτά, αν τρέχει με τη μισή ταχύτητα απ' ότι ένα αυτοκίνητο που τρέχει με 40 χιλιόμετρα την ώρα;

51. Ένα κανό θα έχει πάντα

ΚΟΥΠΙΑ Το α

ΠΑΝΙΑ Το β

ΝΕΡΟ Το γ

ΜΠΟΓΙΑ Το δ

ΜΗΚΟΣ Το ε

52. Στη σειρά αυτή ποιο είναι το επόμενο νούμερο;

65, 68, 72, 77, 83,

53. Πόσα γράμματα στην παρακάτω σειρά βρίσκονται δίπλα σε φωνήεντα αλλά μεταξύ του K και του P;

ΠΑΥΛΕΓΚΑΤΛΟΙΡΨΟΖ

54. Στη σειρά αυτή ποιο είναι το επόμενο νούμερο;

2, A, 9, B, 6, C, 13, D,

55. Πόσα γράμματα στην παρακάτω σειρά βρίσκονται μετά το K αλλά συγχρόνως πριν από P και μετά από T;

AABKMXITTPΨΓΡΡΠΛ

56. 20 άνδρες σκάβουν 40 λάκκους σε 60 ημέρες. Οι 10 άνδρες σε πόσες ημέρες θα σκάψουν 20 λάκκους;

57. Πόσα γράμματα στην παρακάτω σειρά βρίσκονται ακριβώς πριν από ένα μονό αριθμό και ακριβώς μετά από έναν αριθμό μεγαλύτερο του έξι;

2,1,9,A,4,B,3,14,19,Γ,8,9,B, 5,Δ,12,E,17

58. Η ποδοσφαιρική ομάδα του Ολυμπιακού προηγείται στη βαθμολογία και ο ΠΑΟ έρχεται πέμπτος, ενώ ο Άρης είναι ακριβώς μεταξύ τους. Αν η ΑΕΚ έχει περισσότερους βαθμούς από τον ΠΑΟ και ο ΠΑΟΚ είναι αμέσως πίσω από τον Άρη, ποια ομάδα βρίσκεται στη δεύτερη θέση;

- ΟΛΥΜΠΙΑΚΟΣ
ΠΑΟ
ΑΡΗΣ
ΑΕΚ
ΠΑΟΚ

59. Η μια από τις παρακάτω σειρές είναι ακριβώς αντίθετη της άλλης, με εξαίρεση έναν αριθμό. Επιλέξτε τον αριθμό αυτό.

1,2,3 και 1,3,2

- Το 1
Το 2
Το 3

60. Ένα ΕΥΠΑΘΕΣ όργανο του ανθρώπινου οργανισμού είναι ένα όργανο

- ΥΓΙΕΣ Το α
ΚΑΛΟΗΘΕΣ Το β
ΕΥΚΟΛΑ ΠΡΟΣΒΑΛΛΟΜΕΝΟ Το γ
ΔΥΣΚΟΛΑ ΠΡΟΣΒΑΛΛΟΜΕΝΟ Το δ
ΔΥΝΑΤΟ Το ε

61. Ποια λέξη δεν ανήκει στην παρακάτω ομάδα;

- ΤΟ Το α
ΑΥΤΟ Το β
ΕΝΑ Το γ
ΤΟΥΤΟ Το δ
ΕΚΕΙΝΟ Το ε

62. Ποια από τις παρακάτω λέξεις πλησιάζει περισσότερο εννοιολογικά στη λέξη ΕΙΝΑΙ;

- ΟΝ Το α
ΕΙΜΑΣΤΕ Το β
ΖΕΙ Το γ
ΥΠΑΡΧΕΙ Το δ
ΣΥΜΜΕΤΕΧΕΙ Το ε

63. Ένας ΙΧΝΗΛΑΤΗΣ είναι

- ΒΟΣΚΟΣ Το α
ΕΞΩΤΙΚΟ ΠΟΥΛΙ Το β
ΑΝΙΧΝΕΥΤΗΣ Το γ
ΠΥΡΟΣΒΕΣΤΗΣ Το δ

64. Το "ΧΡΩΜΑ" είναι για το "ΧΡΗΜΑ" ότι και το "ΣΩΜΑ" είναι για το

ΟΡΓΑΝΙΣΜΟΣ Το α

ΣΗΜΑ Το β

ΡΗΜΑ Το γ

ΦΙΛΑΡΓΥΡΙΑ Το δ

ΚΕΦΑΛΙ Το ε

65. Η λέξη ΧΕΡΣΑΙΟ είναι το αντίθετο τής λέξης

ΕΥΦΟΡΟ Το α

ΘΑΛΑΣΣΙΟ Το β

ΒΑΡΕΤΟ Το γ

ΑΜΦΙΒΙΟ Το δ

ΣΤΕΡΙΑΝΟ Το ε

66. Το μισό από το εισόδημα ενός σερβιτόρου και 1000 ευρώ ακόμα προέρχονται από φιλοδωρήματα. Αν το εισόδημά του είναι 15.000 ευρώ, πόσα είναι τα φιλοδωρήματα; (γράψτε ολόκληρο τον αριθμό χωρίς κόμματα ή τελείες)

67. Ποια από τις παρακάτω λέξεις πλησιάζει περισσότερο εννοιολογικά στη λέξη ΤΙΜΑΡΙΟΝ;

ΜΙΚΡΗ ΤΙΜΗ Το α

ΕΠΙΤΟΚΙΟ Το β

ΕΙΔΟΣ ΕΝΤΟΜΟΥ Το γ

ΦΕΟΥΔΟ Το δ

ΤΙΜΗΤΙΚΗ ΔΙΑΚΡΙΣΗ Το ε

68. Άν ένα τρένο έχει ήδη καθυστέρηση τριών λεπτών και χάνει τρία δευτερόλεπτα κάθε λεπτό, σε πόσα λεπτά ακόμα θα έχει το τρένο καθυστέρηση μιας ώρας;

69. Ποια από τις παρακάτω λέξεις πλησιάζει περισσότερο εννοιολογικά στη λέξη ΑΠΟΦΡΑΣ;

ΑΠΟΦΡΑΓΜΕΝΗ Το α

ΠΕΡΙΦΡΑΓΜΕΝΗ Το β

ΔΥΣΟΙΩΝΗ Το γ

ΕΝΙΣΧΥΜΕΝΗ Το δ

ΠΕΡΙΠΛΟΚΗ Το ε

70. Τα κορίτσια πάντα έχουν

ΦΟΥΣΤΑΝΙΑ Το α

ΜΑΛΛΙΑ Το β

ΣΩΜΑΤΑ Το γ

ΦΙΛΟΥΣ Το δ

ΧΡΗΜΑΤΑ Το ε

71 . Ένα τρένο πού τρέχει με ταχύτητα 30 χιλιομέτρων την ώρα είναι μπροστά από ένα άλλο τρένο πού τρέχει με ταχύτητα 50 χιλιόμετρα την ώρα. Πόσα χιλιόμετρα απέχουν τα δύο τρένα αν χρειάζονται 15 λεπτά έως ότου το ταχύτερο τρένο φτάσει το άλλο;

72. Η λέξη ΤΡΗΜΑ πλησιάζει περισσότερο εννοιολογικά στη λέξη

ΔΙΑΜΕΤΡΗΜΑ Το α

ΟΠΗ Το β

ΧΡΩΜΑ Το γ

ΛΑΙΜΟΣ Το δ

ΠΑΡΑΡΤΗΜΑ Το ε

73 . Ένα τρένο διανύει τη μισή διαδρομή με ταχύτητα 30 χιλιομέτρων την ώρα και την υπόλοιπη μισή με ταχύτητα 60 χιλιομέτρων την ώρα. Πόσο χρόνο σε λεπτά χρειάζεται το τρένο για να διανύσει ολόκληρη τη διαδρομή αν αυτή είναι 20 χιλιόμετρα;

74. Τό «ΑΒΔ» είναι για το «ΓΒΑ» ότι και το «ΡΣΥ» είναι για το

75. Αν το 2 είναι Α και το 6 είναι Γ και το 8 είναι Δ και το 12 είναι Ζ, πώς θα γράφατε τη λέξη ΓΑΒΑΘΑ χρησιμοποιώντας αριθμούς αντί για γράμματα;

76 . Όταν μια νοικοκυρά παρασκευάζει σούπα, βάζει ένα φασόλι για κάθε δύο ρεβίθια. Αν στη σούπα υπάρχουν συνολικά 300 φασόλια και ρεβίθια, πόσα είναι τα ρεβίθια;

77. Κανένας σκύλος δεν τραγουδάει αλλά μερικοί σκύλοι μιλούν. Επομένως:

Μερικοί σκύλοι τραγουδούν Το α

Οι σκύλοι κυνηγούν τις γάτες Το β

Δεν μιλούν όλοι οι σκύλοι Το γ

78. Κανένας άνθρωπος δεν είναι καλός, αλλά μερικοί άνθρωποι δεν είναι κακοί.
Επομένως

Δεν είναι κακοί όλοι οι άνθρωποι. Το α

Μερικοί άνθρωποι είναι καλοί. Το β

Κανένας άνθρωπος δεν είναι κακός. Το γ

79. Ο ποταμός Α και ο ποταμός Β έχουν συνολικά μήκος 850 χιλιόμετρα και ο Β είναι 250 χιλιόμετρα μικρότερος του Α. Πόσα χιλιόμετρα μήκος έχει ο Α;

80. Ο Κώστας και ο Γιώργος πήγαν στον ιππόδρομο, όπου ο Κώστας έχασε 680 ευρώ στις πρώτες δύο κούρσες, χάνοντας 60 ευρώ περισσότερα στη δεύτερη κούρσα απ' ότι στην πρώτη. Στη δεύτερη κούρσα, ο Γιώργος έχασε 40 ευρώ περισσότερα απ' ότι ο Κώστας. Πόσα έχασε ο Γιώργος στη δεύτερη κούρσα;

81. Τα καλσόν έχουν πάντα

ΘΗΛΥΚΟΤΗΤΑ Το α

ΡΑΦΗ Το β

ΖΑΡΤΙΕΡΕΣ Το γ

ΒΑΡΟΣ Το δ

ΔΙΑΦΑΝΕΙΑ Το ε

82. Στη σειρά αυτή ποιος είναι ο επόμενος αριθμός;

9, 7, 8, 6, 7, 5,

83. το  είναι για το  ότι και το  είναι για το

 Το α

 Το β

 Το γ

 Το δ

 Το ε

84. Τα πουλιά μπορούν μόνο να πετούν και να περπατούν, αλλά τα σκουλήκια μπορούν μόνο να σέρνονται. Επομένως :

Τα πουλιά τρώνε τα σκουλήκια Το α

Τα πουλιά δεν σέρνονται Το β

Τα πουλιά μερικές φορές σέρνονται Το γ

85. Ένα κουτί θα έχει πάντα

ΓΩΝΙΕΣ Το α

ΣΧΗΜΑ Το β

ΞΥΛΟ Το γ

ΣΧΟΙΝΙ Το δ

86. Ποιος αριθμός είναι τόσο μεγαλύτερος του 10 όσο είναι μικρότερος από το μισό εκείνου που προκύπτει όταν το 50 μειωθεί κατά 10;

87. Ο Παπαδόπουλος εισπράττει το διπλάσιο μερίδιο απ' όσα παίρνει καθένας από τούς τρεις συνεργάτες του (πού παίρνουν ίσα μερίδια). Πόσο τοις εκατό από το σύνολο των εισπράξεων παίρνει ο Παπαδόπουλος;

88. Το "ΠΟΥΛΙ" είναι για το "ΨΑΡΙ" ότι και το "ΑΕΡΟΠΛΑΝΟ" είναι για το

ΒΑΡΚΑ Το α

ΦΑΛΛΑΙΝΑ Το β

ΠΛΟΙΟ Το γ

ΥΠΟΒΡΥΧΙΟ Το δ

ΚΑΝΟ Το ε

89. Οι παρακάτω λέξεις μπορούν να τοποθετηθούν έτσι ώστε να σχηματίζουν μια πρόταση. Αν το νόημα πού εκφράζει η πρόταση είναι αληθινό, επιλέξτε (Α), αν δεν είναι αληθινό επιλέξτε (Ψ).

Ένα το είναι πολλά περισσότερα τα από βιβλίο βιβλία

Α

Ψ

90. Ένα τσαμπί Α έχει τόσες μπανάνες όσες κι ένα τσαμπί Β συν το $\frac{1}{3}$ ακόμα του τελευταίου. Αν το δεύτερο τσαμπί έχει 3 μπανάνες λιγότερες από το πρώτο, τότε πόσες μπανάνες έχει το τσαμπί Α;

ΣΩΣΤΕΣ ΑΠΑΝΤΗΣΕΙΣ

1	(3)	31	(Α)	61	(γ)
2	(α)	32	(δ)	62	(δ)
3	(27)	33	(δ)	63	(γ)
4	(γ)	34	(17)	64	(β)
5	(12)	35	(0)	65	(β)
6	(Ψ)	36	(γ)	66	(8.500)
7	(Α)	37	(6)	67	(δ)
8	(9)	38	(γ)	68	(1.140)
9	(Α)	39	(7)	69	(γ)
10	(γ)	40	(δ)	70	(γ)
11	(β)	41	(I)	71	(5)
12	(δ)	42	(9)	72	(β)
13	(γ)	43	(γ)	73	(30)
14	(γ)	44	(27)	74	(ΤΣΡ)
15	(β)	45	(δ)	75	(6, 2, 4, 2, 16, 2)
16	(3)	46	(21)	76	(200)
17	(15)	47	(γ)	77	(γ)
18	(77)	48	(54)	78	(α)
19	(γ)	49	(ε)	79	(550)
20	(β)	50	(1)	80	(41.000)
21	(δ)	51	(ε)	81	(δ)
22	(β)	52	(90)	82	(6)
23	(Λ)	53	(4)	83	(δ)
24	(8)	54	(10)	84	(β)
25	(Η)	55	(4)	85	(β)
26	(0)	56	(60)	86	(15)
27	(γ)	57	(2)	87	(40%)
28	(Α)	58	(ΑΕΚ)	88	(δ)
29	(9)	59	(1)	89	(Α)
30	(Δ)	60	(γ)	90	(12)

ΒΑΘΜΟΛΟΓΙΑ

Για να βρείτε το δικό σας I.Q, πρέπει να ενεργήσετε ως εξής:

(1) Βρείτε στον παρακάτω πίνακα την πνευματική ηλικία που αντιστοιχεί στο σκορ σας (κάθε σωστή απάντηση παίρνει έναν βαθμό).

(2) Αν η ηλικία σας είναι μικρότερη από ΔΕΚΑΠΕΝΤΕ ΚΑΙ ΜΙΣΟ, τότε θα διαιρέσετε την πνευματική σας ηλικία με τη χρονολογική σας ηλικία σε μήνες. Η διαίρεση θα πρέπει να φτάσει μέχρι και τα δύο δεκαδικά ψηφία.

(3) Αν ή ηλικία σας **ΔΕΝ** είναι μικρότερη από ΔΕΚΑΠΕΝΤΕ ΚΑΙ ΜΙΣΟ, τότε θα διαιρέσετε την πνευματική σας ηλικία δια του 186. Η διαίρεση θα πρέπει κι εδώ να φτάσει μέχρι και τα δύο δεκαδικά ψηφία.

(4) Πολλαπλασιάστε το ηλικίο της διαίρεσης επί 100 και έχετε το I.Q. σας με ΒΑΣΗ ΑΥΤΟ ΤΟ ΤΕΣΤ.

Σ. Α. = ΣΩΣΤΕΣ ΑΠΑΝΤΗΣΕΙΣ
 Μ. Α. = ΠΝΕΥΜΑΤΙΚΗ ΗΛΙΚΙΑ

Σ.Α	Μ.Α	Σ.Α	Μ.Α	Σ.Α	Μ.Α	Σ.Α	Μ.Α	Σ.Α	Μ.Α	Σ.Α	Μ.Α
2	94	17	126	32	157	47	189	62	221	77	252
3	96	18	128	33	159	48	191	63	223	78	254
4	98	19	130	34	162	49	193	64	225	79	256
5	100	20	132	35	164	50	195	65	227	80	259
6	103	21	134	36	166	51	197	66	229	81	261
7	105	22	136	37	168	52	199	67	231	82	263
8	107	23	138	38	170	53	202	68	233	83	265
9	109	24	140	39	172	54	204	69	235	84	267
10	111	25	143	40	174	55	206	70	237	85	269
11	113	26	145	41	176	56	208	71	240	86	271
12	115	27	147	42	178	57	210	72	242	87	273
13	117	28	149	43	181	58	212	73	244	88	275
14	119	29	151	44	183	59	214	74	246	89	278
15	122	30	153	45	185	60	216	75	248		
16	124	31	155	46	187	61	218	76	250		

ΑΞΙΟΛΟΓΗΣΗ ΤΩΝ ΑΠΟΤΕΛΕΣΜΑΤΩΝ

Το δικό σας Ι.Ο.: _____

Το Ι.Ρ. του μέσου ανθρώπου: 101

Στον παρακάτω πίνακα μπορείτε να βρείτε τη συσχέτιση του ΙΟ σας με ορισμένα συμβατικά επίπεδα ευφυΐας.

Ι.Ο	ΑΝΑΛΟΓΙΑ ΤΟΥ ΠΛΗΘΥΣΜΟΥ	ΣΥΜΒΑΤΙΚΟ ΕΠΙΠΕΔΟ ΕΥΦΥΪΑΣ
Πάνω από 140	1%	Εξαιρετικά υψηλής ευφυΐας
131-140	3%	Εξαιρετικής ευφυΐας
111-130	26%	Ανώτερης ευφυΐας
91-110	42%	Μέσης ευφυΐας
71-90	24%	Χαμηλής ευφυΐας
Κάτω από 71	4%	Πνευματικά υπολειπόμενος

ΣΗΜΕΙΩΣΗ: Η διάγνωση της πνευματικής καθυστέρησης δεν μπορεί να στηριχθεί μόνο στα αποτελέσματα ενός Ι.Ο. τεστ